

时 间	纳税田亩数比 1683 年增加的数量(%)
康熙五十一年(1712 年)	23
雍正四年(1726 年)	60
	此时耕地面积已超过明末耕地面积百分之二十点六

表 1 所示纳税田亩数的变化反映了当时

- A. 精耕细作的推广
B. 手工业技术提高
C. 农业经济的发展
D. 水利工程的兴修
12. 乾隆时颁布的《钦定藏内善后章程》规定:驻藏大臣督办藏内事务,地位与达赖、班禅平等。这体现了清朝
A. 设置宣政院统辖西藏
B. 完成对全国的统一
C. 创设了金瓶掣签制度
D. 加强对西藏的管辖
13. 到 19 世纪 80 年代,清政府初步建成北洋、南洋、福建等海军。南洋水师起步较早但发展缓慢,北洋水师连续多年无法添置新的舰船。这说明了当时
A. 洋务运动成效显著
B. 自强求富已经实现
C. 海军建设步履艰难
D. 军队改制全盘西化
14. 它以暴力推翻了帝制,代之以民国,为 2000 多年历史打上用铁和血铸成的句号。这反映的历史事件是
A. 戊戌变法
B. 辛亥革命
C. 护国战争
D. 护法运动
15. 对联是民族文化的结晶,蕴含着丰富的政治、经济和文化等时代气息。图 5 所示对联纪念的是
A. 新文化运动兴起
B. 五四运动的爆发
C. 中国共产党成立
D. 北伐战争的胜利
16. 历史解释是在史事的叙述和理解的基础上,对历史事物进行的理性分析和客观评判。下列对古田会议的表述中,属于历史解释的是
A. 1929 年,红四军党的第九次代表大会在福建省上杭县古田召开
B. 会议选举毛泽东为红四军前敌委员会书记
C. 会议确立了思想建党、政治建军的原则
D. 人民军队永远不变的军魂是指中国共产党对军队的绝对领导
17. 图 6 所示体现了 20 世纪 50 年代中国人民



图 5

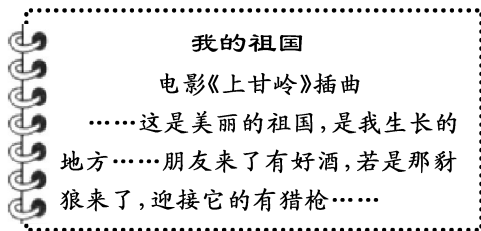


图 6

- A. 热情好客,彰显礼仪风范
B. 爱好和平,打击侵略者
C. 士气旺盛,武器装备精良
D. 努力生产,踊跃支援前线
18. 1971 年 11 月 1 日,中华人民共和国五星红旗第一次在联合国升起,这是中国外交战线的重大胜利。这体现当时中国
A. 提出了和平共处五项原则
B. 推动亚非会议的圆满成功
C. 恢复在联合国的合法席位
D. 改善了与美国之间的关系

19. 图 7 所示为深圳市地区生产总值的变化,其主要原因是

- A. 家庭联产承包责任制实行
- B. 对外开放实行及不断深化
- C. 国有企业改革的持续推行
- D. 相对优越的区域地理位置

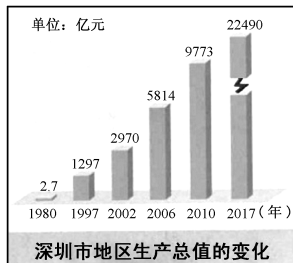



图 7

20. 袁隆平发明的“三系法”籼型杂交水稻技术,使中国杂交水稻研究水平始终处于世界领先地位;91 岁高龄的他,还坚持在三亚基地开展科研工作。据此可知,他


- A. 致力创新、崇尚劳动
- B. 诚实守信、乐于助人
- C. 艰苦朴素、乐观自信
- D. 勤政爱民、廉洁奉公

21. 图 8、图 9 所示体现了古希腊人



古希腊运动场入口

图 8



古希腊画瓶上跑步的运动员

图 9

- A. 重视体育活动
- B. 追求思想自由
- C. 培养公民意识
- D. 提倡男女平等

22. 阿拉伯人将古印度人的数字改造为阿拉伯数字,并传播到世界各地。这折射出阿拉伯人致力于

- A. 创新与交流
- B. 冒险与挑战
- C. 征服与重建
- D. 统一与扩张

23. 近代西方国家贩卖奴隶的过程中,奴隶死亡率一般为 30%,最高达 50%。幸存者被卖到美洲后,其劳动寿命平均仅 7 年左右。据此可知,奴隶贸易具有

- A. 长期性
- B. 广泛性
- C. 复杂性
- D. 血腥性

24. 图 10 所示成就一定程度上推动了近代科学的发展。取得这些成就的人物是

- A. 牛顿
- B. 达尔文
- C. 诺贝尔
- D. 爱迪生

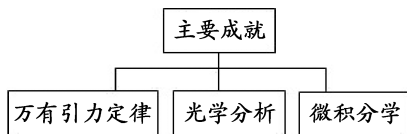


图 10

25. 1689 年,英国《权利法案》明确限制王权。1701 年,议会通过《王位继承法》,规定国家的一切法律与条例非经议会通过,均属无效。这表明,英国逐步形成

- A. 三权分立原则
- B. 君主立宪制度
- C. 民主共和制度
- D. 联邦制度

26. 图 11 所示内容反映了当时法国



《装饰战》

法国执政府时期(1799-1804 年)的
“新富翁”耻笑那些仍然穿着老式贵族服装的人

图 11

- A. 自然简洁的服饰受到推崇
- B. 强化自由平等的人权理念
- C. 人们的审美观念发生变化
- D. 大革命引发社会生活变迁

27. 表2 第一次世界大战爆发的历史渊源(部分)

观点1	资本主义政治经济发展的不平衡
观点2	欧洲两大军事对抗组织的出现
观点3	德国的崛起与欧洲各国的军备竞赛
观点4	巴尔干危机埋下战争祸根

下列对表2所示第一次世界大战爆发原因的解读,最准确的是

- A. 三国同盟和三国协约的军事对抗
- B. 英国与德国矛盾的激化
- C. 政治经济军事等因素的共同作用
- D. 欧洲各国开展军备竞赛

28. 图12所示历史事件发生在1945年5月,其作用是

- A. 粉碎德军不可战胜的神话
- B. 成为二战的转折点
- C. 开辟欧洲第二战场
- D. 加速德国无条件投降



苏军攻克柏林
图12

29. 苏联和美国以及它们各自同盟的地缘政治和意识形态之间的敌对关系持续了五十多年,波及世界的每个角落。这叙述了冷战的

- A. 背景
- B. 目的
- C. 措施
- D. 影响

30. 2001年,中国加入世界贸易组织。到2011年,中国外贸进出口总额已从2001年的5098亿美元,增加到超过3.6万亿美元,成为世界第一大出口国和第二大进口国。这直接佐证了世界贸易组织的作用是

- A. 推动了成员国经济发展
- B. 提高了科技的创新水平
- C. 维护了世界和平与安全
- D. 加快了亚太一体化进程

二、非选择题:共4题,共40分。

31. 阅读材料,完成下列要求。(6分)

材料

唐代进士科的考试着重于文学写作,也要考帖经(注,儒家经典基础知识测验)。唐玄宗统治时期,采取“作诗赋帖”的通融办法,允许考生不考帖经,而以作诗代替。这样一来,更加提高了诗词在科考中的地位。唐诗在中国诗歌发展道路上达到了空前的成熟和繁荣。

——摘编自阴法鲁《中国古代文化史》

(1) 根据材料并结合所学知识,简述唐玄宗统治前期出现鼎盛局面的名称。(2分)

(2) 小历认为,唐代科举考试“作诗赋帖”的做法,推动了唐诗的成熟和繁荣。你是否同意这一观点?结合所学知识,简要说明理由。(4分)

32. 阅读材料,完成下列要求。(12分)

材料一

鸦片战争后,英国政府强迫清政府签订了中国近代第一个不平等条约。尽管表面上清王朝仍继续维持其统治地位,但实际上中国已经不再像以往那样拥有独立完整的国家主权,在许多方面不得不受制于西方资本主义国家的摆布,成为西方诸列强掠夺和奴役的对象。

——摘编自朱英《中国近代史十五讲》

材料二

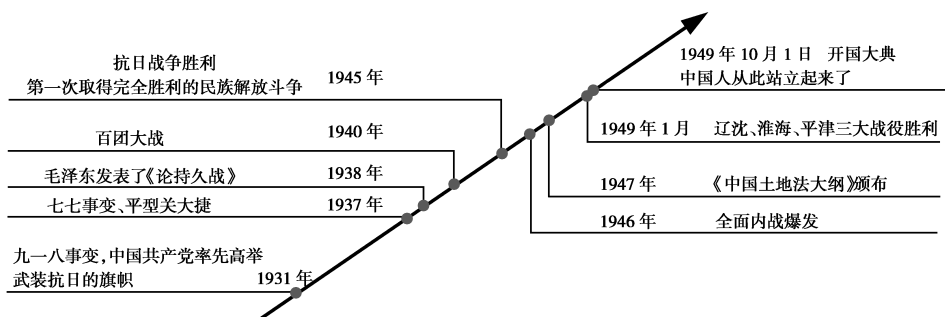


图13

——据张海鹏主编《中国近代通史》编制

(1) 根据材料一并结合所学知识,简述中国近代第一个不平等条约的名称,概括其对近代中国社会性质的影响。(4分)

(2) 根据材料二,概括 1931-1945 年中国社会的时代特征,并结合所学知识,简析人民解放战争迅速胜利的原因。(5分)

(3) 综合上述材料并结合所学相关史实,说明 1921-1949 年中国共产党完成的历史使命。(3分)

33. 阅读材料,完成下列要求。(12分)

材料一

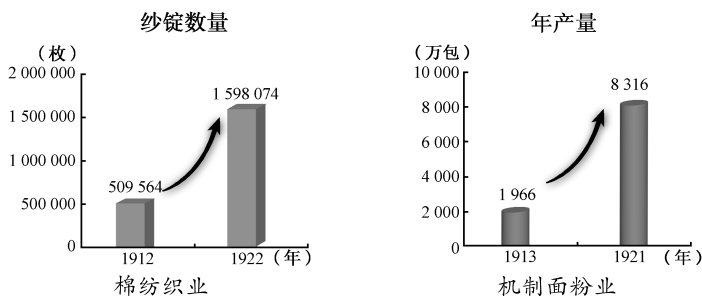


图 14 第一次世界大战前后,我国棉纺织业和机制面粉业的发展

——摘自中国地图出版社《中国历史地图册》

材料二

表 3 1952-1957 年我国工业年增长率(部分)

种类	年增长率(%)
钢	31
电力	21
煤	14
机械制造	31
铁路通车里程	22

2009 年,我国在信息通讯、新建装备制造、新材料、新能源和高端生产性产业等战略性新兴产业异军突起。中国铁路依托重大工程项目,坚持原始创新和引进消化吸收再创新,在高速铁路等方面取得了系列科技成果。至 2012 年 10 月底,中国投入运营的高速铁路总里程达到 7735 公里,居世界第一。

图 15

——摘编自郭大钧《中国当代史》

(1) 根据材料一,简述第一次世界大战前后,我国棉纺织业和机制面粉业的发展状况。(2分)

(2) 根据材料二,概括 1952-1957 年我国工业发展的领域,并结合所学知识,概括 20 世纪 50 年代-21 世纪初我国铁路建设发生的变化。(6分)

(3) 根据材料一、二并结合所学相关史实,说明 1949 年以来我国工业发展的主要原因。(4分)

34. 阅读材料,完成下列要求。(10分)

材料

表 4 世界近代史大事记(部分)

时间	事件
18 世纪中期	英国工业革命开始
1848 年	《共产党宣言》发表
1861 年	俄国农奴制改革实施
	美国内战爆发
1864 年	第一国际成立
1868 年	日本明治维新开始
19 世纪 60-70 年代	第二次工业革命开始
1871 年	巴黎公社革命爆发

——据吴于廑、齐世荣主编《世界史》编制

(1) 根据材料,以世纪、年代的呈现方式,简述《共产党宣言》发表的时间。(2分)

- (2) 阅读以上材料,提取两个历史事件,确定观点,并结合材料和所学世界近现代史知识加以论述。(8分)
要求:观点明确,根据材料中的两个历史事件,并结合所学世界近现代史一个历史事件,加以论述,史论结合,条理清楚)

历史试题参考答案

一、选择题:本题共 30 小题,每小题 2 分,共 60 分。

1. A 2. B 3. A 4. C 5. D 6. B 7. C 8. D 9. A 10. D
11. C 12. D 13. C 14. B 15. C 16. D 17. B 18. C 19. B 20. A
21. A 22. A 23. D 24. A 25. B 26. B 27. C 28. D 29. D 30. A

二、非选择题:共 4 题,共 40 分。

31. (6 分)

(1) 名称:开元盛世。

(2) 答案一:

判断:同意。

理由:唐玄宗统治时期,进士科考试“作诗赋帖”的办法,提高了诗歌在科考中的地位,推动了应试者的诗歌创作热情,提升了诗歌创作的水平,是唐诗在中国诗歌发展道路上达到空前成熟和繁荣的重要原因。

答案二:

判断:不同意。

理由:唐诗的发展,除了科举考试“作诗赋帖”的推动之外,更主要与唐代政治稳定、经济繁荣、社会安定等多种因素有关。这说明,唐代诗歌的成熟和繁荣是当时社会政治、经济的反映。

答案三:

判断:不同意。

理由:唐诗的发展,除了科举考试“作诗赋帖”的推动之外,还与诗歌自身的发展规律有关,更主要的是唐代政治稳定、经济繁荣、社会安定等多种因素共同作用的结果。

32. (12 分)

(1) 条约的名称:中英《南京条约》。

影响:中国开始沦为半殖民地半封建社会。

(2) 时代特征:民族危机空前严重(或抗日救亡运动兴起并发展);中国共产党成为全民族抗战的中流砥柱;中国共产党领导中国人民取得民族解放战争的胜利。

胜利原因:中国共产党的正确领导;人民群众的支持;人民解放军英勇作战;正确的战略战术;蒋介石集团坚持独裁统治和内战政策不得人心等。(任答其中 2 点即可)

(3) 历史使命:中国共产党领导中国人民经过国民大革命、土地革命、抗日战争、人民解放战争,完成反帝反封建的任务,建立了中华人民共和国。

33. (12 分)

(1) 状况:发展速度都较快。

(2) 领域:重工业。

变化:从普通铁路到高速铁路建设;从引进学习到自主创新;中国普通铁路通车总里程逐步增长,运营效率提高;高速铁路从无到有,总里程逐步增长并居世界第一。

(3) 主要原因:

① 在中国共产党领导下,1949 年新中国成立,我国实现了民族独立,这是工业发展的前提。

② 一五计划的完成,为我国向社会主义工业化迈进奠定基础。

③ 三大改造的完成,我国进入社会主义初级阶段,为工业发展提供制度保障。

④ 改革开放以来,通过城市经济体制的改革,增强了企业的活力。

⑤ 社会主义市场经济体制的确立,为工业发展注入新的活力。

⑥ 通过对外开放,招商引资,推动工业结构趋向合理。

⑦加入世界贸易组织,为工业发展开拓新空间。

⑧引进学习与自主创新相结合,科技含量不断提升,为工业持续稳定增长提供保障。(答出4个要点即可)

34. (10分)

(1)19世纪40年代。

(2)(8分)

【示例一】(8分)

观点:工业革命推动了社会生产力的巨大飞跃。

论述:18世纪中期,英国开始了工业革命,蒸汽机的广泛使用,极大地推动了生产力的发展。随着工业革命向欧美的扩展,人类社会进入“蒸汽时代”。19世纪60-70年代,第二次工业革命开始,内燃机的发明和电力的广泛应用,进一步推动了生产力的发展,极大地改变了人们的生活方式,人类社会进入“电气时代”。二战后,随着电子计算机的发明和普及,互联网在全球迅速推广,对现代社会生产、生活产生了前所未有的影响,人类社会进入“信息时代”。

综上所述,工业革命极大地提高了社会生产力,推动了人类社会的进步。

【示例二】(8分)

观点:马克思主义推动了世界无产阶级革命从理论到现实的转变。

论述:1848年《共产党宣言》发表,号召工人阶级建立自己的政党,用暴力推翻资产阶级的统治。在马克思主义科学理论指导下,国际工人运动进入新阶段。第一国际成立,推动各国工人阶级斗争走向联合。1871年,法国巴黎工人武装起义,建立世界上第一个无产阶级政权巴黎公社。1917年,俄国十月革命爆发,通过武装起义夺取政权,建立了世界上第一个无产阶级专政的国家,是人类历史上第一个胜利的社会主义革命。

综上所述,马克思主义理论是科学的理论,是不断发展、开放的理论,在其指导下,国际共产主义运动蓬勃发展。

【示例三】(8分)

观点:顺应历史潮流的改革推动了社会的进步。

论述:1861年,俄国面对农奴制危机,亚历山大二世实行改革,废除了农奴制,为资本主义发展提供了自由劳动力、资金等,推动了俄国走上发展资本主义的道路。1868年,日本面对民族危机,明治政府实行一系列的改革,采取废藩置县、殖产兴业等措施,推动日本走上发展资本主义的道路,摆脱了民族危机,成为亚洲强国。1933年,美国面对经济大危机,罗斯福实行新政,采用国家干预经济手段,走出困局,对美国及资本主义世界产生了深远影响。

综上所述,面对社会危机,统治者顺应历史发展潮流,采取针对性的改革措施,除旧布新,有力地推动了社会的发展。

【示例四】(8分)

观点:工业革命客观上推动了国际共产主义运动的兴起与发展。

论述:18世纪中后期,随着工业革命的深入发展,资本主义弊端逐步显现,阶级矛盾日益尖锐,工人运动兴起,为马克思主义产生提供必要条件。1848年,《共产党宣言》发表,标志着马克思主义诞生,无产阶级斗争有了科学理论指导,推动了国际工人运动的兴起和发展,如巴黎公社革命。1917年,俄国十月革命爆发,通过武装起义夺取政权,建立了世界上第一个无产阶级专政的国家,打破了资本主义一统天下的局面,实现了社会主义从理想到现实的伟大飞跃。

综上所述,工业革命极大推动了生产力的发展,也引发了深刻的社会变革,推动了国际共产主义运动的蓬勃发展。

道德与法治试题

一、选择题:本题共 26 小题,每小题 2 分,共 52 分。在每小题给出的四个选项中,只有一项是符合题目要求的。

1. 2021 年是中国共产党成立 100 周年。一百年来,中国共产党带领中国人民培育形成了一系列伟大精神,构筑起中国共产党的精神谱系。图 1 中每幅图片内容与其下方标注的伟大精神相匹配的有




图 1

A. ①② B. ①④ C. ②③ D. ③④

2. 2021 年中央一号文件《中共中央 国务院关于全面推进乡村振兴加快农业农村现代化的意见》为推进“三农”工作指明了方向。下列实现乡村全面振兴的推进路径,排序正确的是

①农业农村现代化基本实现 ②乡村振兴全面进入实施阶段

③农业强、农村美、农民富全面实施

A. ①—②—③ B. ①—③—②

C. ②—①—③ D. ②—③—①

3. 右框时事共同反映的主题,用一个关键词概括,最贴切的是

A. 独立自主 B. 自力更生
C. 深化改革 D. 合作共赢

★2020 年 11 月 15 日,东盟 10 国和中国、日本、韩国、澳大利亚、新西兰共 15 个国家签订《区域全面经济伙伴关系协定》。

★2020 年 11 月 20 日,国家主席习近平在亚太经合组织第二十七次领导人非正式会议上,发表了题为《携手构建亚太命运共同体》的重要讲话。

4. 2021 年 3 月 15 日,在中央财经委员会第九次会议上,习近平总书记强调,要如期实现 2030 年前碳达峰、2060 年前碳中和的目标。下列举措有助于实现这一目标的有

①“中国天眼”正式对全球开放 ②开发利用水电、风电等可再生能源
③研究三星堆遗址出土的珍贵文物 ④《中华人民共和国长江保护法》正式施行

A. ①② B. ①③ C. ②④ D. ③④

5. 下列新闻事件与新闻解读相匹配的是

序号	新闻事件	新闻解读
①	中文成为世界旅游组织官方语言	中文的国际影响力扩大
②	《中华人民共和国生物安全法》正式施行	为我国生物安全筑起法治“防火墙”
③	我国发布“本源司南”量子计算机操作系统	标志我国科学技术水平领先全球
④	新修订的未成年人保护法通过	增加了未成年人享有的基本权利

A. ①② B. ①③ C. ②④ D. ③④

6. 小斌:班上其他人的球技都不如我,球队队长非我莫属!
班长:小福的球技不比你差,且组织能力强,大家都推选他当队长。

小斌:这样呀?

以上对话启示我们要

A. 正确认识自己 B. 做一个有自信的人
C. 广交各类朋友 D. 合理安排活动时间

7. 小闽和小福是好朋友。生活上,他们分担烦恼,共享快乐;学习上,你追我赶,优势互补,共同提高学习成绩。由此可见

①友谊是亲密的、双向的 ②友谊总是一成不变的
③竞争并不必然伤害友谊 ④友谊要以自我为中心

A. ①② B. ①③ C. ②④ D. ③④

8. 图2给我们的启示有

- ①同心共筑美德之家
- ②用行动表达孝敬之心
- ③礼物是维系亲情的前提
- ④子女需要父母关心和呵护

- A. ①②
- B. ①④
- C. ②③
- D. ③④



常回家看看

图2

9. 在市青少年创新大赛中,小福对自己抱有希望,但因发挥失常,他很失落。对此,下列建议最恰当的有

- ①学会放弃,专攻学习
- ②顺其自然,不应该好高骛远
- ③调节情绪,继续努力
- ④不畏挫折,对自己要有信心

- A. ①②
- B. ①④
- C. ②③
- D. ③④

10. 全面实行垃圾分类后,“新时代好少年”施源观察到湿垃圾在用手破袋时有异味、易脏手。经过反复实验,他发明了一款“白菜拉拉袋”新型湿垃圾分类袋,并申请了专利。材料启示我们开发创造潜力要

- ①善于发现问题、提出问题
- ②用智慧和双手努力探索、实践
- ③立足个人兴趣,另辟蹊径
- ④谦虚谨慎,善于接纳他人意见

- A. ①②
- B. ①④
- C. ②③
- D. ③④

11. 小闽参加了学校组织的“学四史,树理想”系列研学活动,被先辈们的英勇事迹深深感动,他暗下决心要努力成为社会主义合格的建设者和接班人。材料说明

- ①情感表达的方式是多种多样的
- ②情感会影响人们的判断和选择
- ③情感是短暂的且会随情境变化
- ④情感可通过有意义的活动获得

- A. ①③
- B. ①④
- C. ②③
- D. ②④

12. 时代楷模“漳州110”始终初心不改、本色不变,把“人民的保护神”镌刻在自己的旗帜上,坚守铁一般的纪律,一级做给一级看,一级带着一级干。材料表明,“漳州110”的成功源于

- ①集体有共同目标
- ②成员的团结协作
- ③集体平台的高低
- ④成员数量的多寡

- A. ①②
- B. ①③
- C. ②④
- D. ③④

13. “天地生人,有一人应有一人之业;人生在世,生一日当尽一日之勤。”这蕴含的道理是

- A. 追求自由,体味美好人生
- B. 与人为善,学会换位思考
- C. 改进规则,维护社会秩序
- D. 认清角色,积极承担责任

14. 下表中对小闽同学“微行为”的“微点评”,正确的有

序号	微行为	微点评
①	聚餐时,提议使用公勺公筷	主动维护社会公平
②	到校后,主动把智能手机交老师保管	严格遵守校规校纪
③	在家里,积极向奶奶学习煮饭炒菜	自觉在实践中学习
④	乘电梯,按“先来后到”顺序排队	信守对他人的承诺

- A. ①②
- B. ①④
- C. ②③
- D. ③④

15. “我站立的地方是中国,我用生命捍卫守候;哪怕风似刀来山如铁,祖国山河一寸不能丢。”中国边防军人愿以生命守护祖国边疆是因为

- ①国家利益至高无上
- ②维护国家利益是公民的基本义务
- ③国防现代化的需要
- ④人民利益是国家利益的集中体现

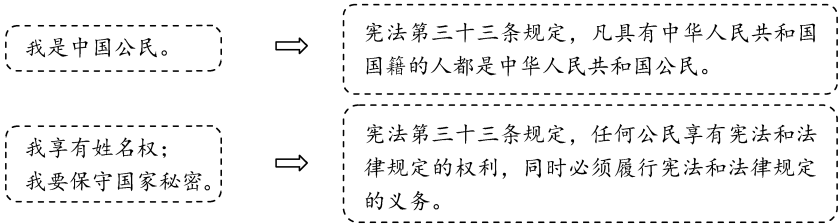
- A. ①②
- B. ①③
- C. ②④
- D. ③④

16. 从《左传》中的“人生在勤,勤则不匮”到《朱子家训》中的“黎明即起,洒扫庭除,要内外整洁”,诸多格言警句彰显了中华民族勤于劳动的传统美德。新时代传承这一美德有助于

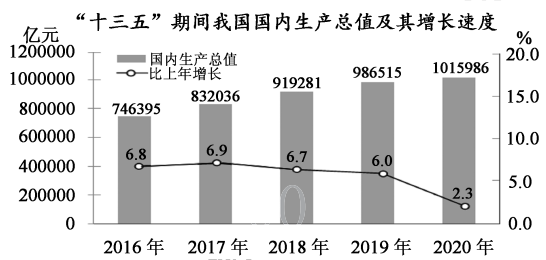
- ①创造物质财富和精神财富
- ②强化道德对法律建设的决定作用
- ③人的全面发展和社会进步
- ④弘扬以改革创新为核心的民族精神

- A. ①②
- B. ①③
- C. ②④
- D. ③④

17. 根据下列图示,可得出的结论是



- A. 宪法是其他法律的立法基础
B. 宪法严格规范国家权力运行
C. 宪法与每个公民息息相关
D. 宪法制定和修改程序更严格
18. 老李购买的小汽车存在质量缺陷,但厂家拒绝更换。经消费者协会和工商部门多次调解未果,老李将厂家诉至法院。案例中老李
A. 依法享有物质帮助权
B. 依法同犯罪行为作斗争
C. 依法通过仲裁解决纠纷
D. 依照法定程序维护权利
19. 2020 年在我国规模以上工业中,国有控股企业增加值增长 2.2%,股份制企业增长 3.0%,外商及港澳台商投资企业增长 2.4%,私营企业经营增长 3.7%。这表明
A. 私营经济是国民经济的主体
B. 我国坚持多种所有制经济共同发展
C. 企业增加了劳动者劳动报酬
D. 市场在资源配置中起着决定性作用
- 编制和实施国民经济和社会发展规划,是国家经济社会生活中的大事。回答 20~21 题。



20. 图 3 表明“十三五”期间
①我国经济转向高速度发展
②我国经济增速保持正增长
③我国成为世界第一大经济体
④我国国内生产总值持续增加
A. ①②
B. ①③
C. ②④
D. ③④
21. “十四五”规划编制把加强顶层设计和坚持问计于民统一起来,多渠道向社会广泛征求意见和建议。此举旨在
A. 增强现代公民的法治意识
B. 促进决策的科学化、民主化
C. 发挥政治协商、参政议政优势
D. 拓宽民主监督的方式、渠道
22. 福建省连续 42 年森林覆盖率保持全国首位,水土流失率降至 7.5%。这主要得益于我省
A. 建立区域协调发展机制
B. 坚持走绿色发展道路
C. 实施创新驱动发展战略
D. 秉持共享发展的理念
23. “三千孤儿入内蒙”讲述上世纪六十年代,生活并不宽裕的内蒙古牧民,用博大胸怀接纳来自上海、江苏、安徽等省市的汉族孤儿并精心照料的故事。这段历史佳话说明了我国
A. 各族人民同呼吸、共命运、心连心
B. 各族人民平等享有权利,共同承担义务
C. 加大对少数民族地区经济支持力度
D. 积极促进各少数民族文化的繁荣和发展
24. 十三届全国人大四次会议通过了《全国人民代表大会关于完善香港特别行政区选举制度的决定》,“爱国者治港”是该决定的主导性原则和贯穿性红线。该决定的出台
①符合广大香港同胞的期盼
②完善了社会主义市场经济体制
③体现全国人大行使审议权
④推动“一国两制”实践行稳致远
A. ①②
B. ①④
C. ②③
D. ③④

25. 面对当今世界百年未有之大变局,我国倡导世界各国要“拉手”而不是“松手”,要“拆墙”而不是“筑墙”。这是基于
- ①对话与协商是当今时代的主题
 ②经济全球化是当今世界的发展趋势
 ③我国积极主动与世界各国交往
 ④人类面临的各种挑战需要共同解决

A. ①② B. ①③ C. ②④ D. ③④

26. 截至 2021 年 4 月初,我国向全球 80 多个国家和 3 个国际组织提供了新冠疫苗援助,同时向 40 多个国家出口疫苗,与 10 多个国家开展了疫苗研发与生产合作。材料表明
- A. 我国已赢得各国一致信任 B. 我国积极参与全球规则制定
 C. 我国为人类描绘宏伟蓝图 D. 我国是一个有担当的大国

二、非选择题:请根据下列各题要求,回答问题。共 5 题,共 48 分。

27. 判断说理(8 分)

判断下列做法或说法是否正确,正确的在括号内打“√”,错误的在括号内打“×”,并说明理由。(每小题 4 分,共 8 分)

(1) 只要我们有知耻之心,就能做到“行己有耻”。
 ()理由:_____。

(2) 图 4 中小闽的言行。
 ()理由:_____。



图 4

28. 时事点评(6 分)

保护知识产权是优化创新环境,实现国家高质量发展的刚需。十八大以来,我国设立知识产权保护中心和快速维权中心,开展专利“护航”、打击网络侵权盗版等行动,扎紧了知识产权保护的“篱笆墙”。“十四五”规划和 2035 年远景目标纲要进一步明确提出,要“实施知识产权强国战略”,这将使我国知识产权保护工作跃上新台阶。

运用时事知识,对“我国加强知识产权保护”做出点评。(6 分)

29. 阅读材料,回答问题。(8 分)

山路得康庄

重庆市巫山县竹贤乡下庄村,四周都是千米的高山绝壁。1997 年毛相林当选村支书后,带领村民以“愚公移山”的决心和毅力,冒着生命危险,用最原始的方式,历时 7 年硬是在绝壁上凿出一条通往外界、长达 8 公里的“天路”。

出山公路修通,村民们欢欣鼓舞。毛相林继续带领村民攻坚克难,发展了柑橘、桃、西瓜三大脱贫产业和乡村旅游。2015 年,下庄村整村脱贫;2020 年,全村人均年收入比路通前翻了 40 多倍,村民的日子越过越红火。

毛相林荣获“全国脱贫攻坚楷模”“感动中国 2020 年度人物”等荣誉称号。

- (1) 毛相林践行了社会主义核心价值观中的哪些价值准则?(2 分)
 (2) 结合材料,运用生命的有关知识,分析毛相林是如何让生命从平凡中闪耀出伟大。(6 分)

30. 阅读材料,回答问题。(12 分)

2021 年 4 月 29 日通过并施行的《中华人民共和国反食品浪费法》,为反食品浪费提供了法律规范。这意味着“厉行节约、反对浪费”不再仅仅是倡导和号召。

▲我国城市餐饮业人均浪费率为11.3%，大型聚会浪费率达38%，学生盒饭有1/3被扔掉。

▲生产1公斤粮食，要消耗800公斤水，这意味餐饮浪费是对水、土地无效消耗。

▲我国粮食供求长期处于紧平衡状态。十八大以来，党中央提出了“确保谷物基本自给、口粮绝对安全”的新粮食安全观。

(1) 结合资料链接,运用所学知识,分析我国出台反食品浪费法的必要性。(6分)

(2) 运用依法履行义务的知识,联系实际说明中学生应怎样做到厉行节约、反对浪费。(6分)

31. 阅读材料,回答问题。(14分)

百年洗礼,淬炼伟大政党;栉风沐雨,创造人间奇迹。

材料一 1928年,中国共产党领导穷苦农民“打土豪、分田地”,老邱家获得了梦寐以求的土地,激动地贴了一副对联(图5)。改革开放以来,受益于党的好政策,老邱家走上了致富路,2020年,他家又贴了一副对联(图6)。

(1) 一户人家,跨越时空的两副对联的内容,共同印证了哪些道理?(4分)

材料二 福建是著名的革命老区,有古田会议遗址、红军长征出发地……红色资源丰富、底蕴深厚、特色鲜明。福建采取一系列措施赓续红色血脉、传承红色基因:多渠道挖掘红色资源,避免流失;创新展览展示,推动红色文物资源“活”起来;加大宣传力度,以群众喜闻乐见的方式讲好福建红色故事;开发红色旅游产品,发展红色旅游产业。

(2) 结合材料,运用所学知识,说明福建赓续红色血脉、传承红色基因的意义。(6分)

材料三 百年奋斗,圆梦正在今朝;千秋伟业,百年只是序章。我们要大力发扬“为民服务孺子牛、创新发展拓荒牛、艰苦奋斗老黄牛”的“三牛精神”,创造更大奇迹。

(3) 任选“三牛精神”中的一种精神,就如何发扬这一精神,向全校同学发出倡议。(4分)

要求:将倡议书中划线部分的内容补充完整。

共产党万岁

幸福牢记毛委员

分田不忘共产党

图5

共产党万岁

致富迎来幸福春

脱贫全靠惠民策

图6

倡议书

耕耘更知韶光贵,不用扬鞭自奋蹄。为进一步发扬_____精神,我们倡议:

①_____ ; ②_____。

道德与法治试题参考答案

一、选择题:共26小题,每小题2分,共52分。

1. B 2. C 3. D 4. C 5. A 6. A 7. B 8. A 9. D 10. A
11. D 12. A 13. D 14. C 15. A 16. B 17. C 18. D 19. B 20. C
21. B 22. B 23. A 24. B 25. C 26. D

二、非选择题:共5题,共48分。

27. (8分)

(1) (×)理由:有知耻之心有助于判断是非善恶,但不一定能做到“行己有耻”;“行己有耻”还要求树立底线意识,拒绝不良诱惑,增强自控力。

(2) (√)理由:小闽不擅自转发未经证实的信息,遵守了网络生活的基本准则,有较高的媒介素养。

28. (6分)

我国重视知识产权保护。保护知识产权是适应创新发展的需要,是推进全面依法治国的要求,有利于保护创新成果的合法权益,激发创新的积极性。保护知识产权,需要国家健全法律制度体系和保护体系,加大知识产权保护力度。

29. (8分)

(1)爱国、敬业。

(2)毛相林用坚持、责任、勤劳、智慧、信念,书写了自己的生命价值;带领村民凿出“天路”、脱贫致富,创造了不平凡的社会价值;将自己的生命和他人、集体、国家的命运联系在一起,提升了生命的质量,活出了生命的精彩。

30. (12分)

(1)我国餐饮浪费问题突出,出台反食品浪费法为反食品浪费提供法律依据;粮食生产需要消耗水、土地等资源,而我国水、土地等资源相对不足,出台反食品浪费法是贯彻节约资源和保护环境基本国策的要求;粮食安全关系到国家安全,我国粮食供求长期处于紧平衡状态,出台反食品浪费法符合总体国家安全观的要求。

(2)法律要求做的必须去做;法律禁止做的坚决不做。在生活中,我们要依法履行义务,做到适量点餐、光盘行动。

31. (14分)

(1)中国共产党为中国人民谋幸福、为中华民族谋复兴;广大人民坚决拥护中国共产党的领导。

(2)挖掘红色资源,为传承红色文化提供载体;创新红色文化传播方式,扩大红色文化影响力;讲好红色故事,坚定文化自信;发展文化产业,助推经济发展。

(3)要求:任选一种精神作答即可,倡议必须与所选精神相符合。

示例1:孺子牛精神。①在学校,服务奉献集体;②在社会,热心公益活动。

示例2:拓荒牛精神。①思想上,培养独立思维;②行动上,参与创新实践。

示例3:老黄牛精神。①学习上,顽强拼搏;②生活上,克勤克俭。

体育与健康基本知识试题

本部分全部为选择题,共16小题,每小题0.25分,共4分。在每小题给出的四个选项中,只有一项是符合题目要求的。

1. 将在我国举办的第24届冬奥会,时间是

- A. 2021年 B. 2022年 C. 2023年 D. 2024年

2. 踝关节扭伤应急处理方法是立即停止运动,并采取

- A. 按摩、针灸理疗、冲洗患处 B. 热敷、口服中药、抬高患处
C. 勾脚、拉伸韧带、冲洗患处 D. 冷疗、加压包扎、抬高患处

3. 日常生活中,横穿马路时正确的做法是

- A. 边走边使用手机 B. 翻越护栏走捷径
C. 走人行横道 D. 黄灯闪烁时快速进入人行横道

4. 艾滋病主要传播方式除了性接触传播、间接接触传播、母婴传播外,还有

- A. 握手传播 B. 拥抱传播 C. 血液传播 D. 面对面交谈

5. 青少年时期,与异性交往中应遵守的原则包括团队交往、交往有度以及

- A. 故意疏远、拒绝交往 B. 自尊自爱、保持独立
C. 过分亲密、密切交往 D. 举止轻浮、随意任性

6. 遭遇意外伤害事故时,对没有心跳和呼吸者采取心肺复苏的“黄金救援时间”是

- A. 4分钟 B. 8分钟 C. 12分钟 D. 16分钟

7. 《中共中央 国务院关于加强青少年体育增强青少年体质的意见》提出:保证初中学生每天睡眠时间为

- A. 7小时 B. 9小时 C. 11小时 D. 13小时

8. 吸烟是典型的不良生活习惯,对生长发育的危害尤其严重,面对他人劝让吸烟时,下列正确的做法是

- A. 来者不拒 B. 勉强接受
C. 明确拒绝 D. 父母允许后可尝试

9. 营养丰富的早餐可使人精力充沛,提高学习效率,下列最合理的早餐食物搭配是

- A. 面包、冰激凌、奶茶、果蔬 B. 馒头、面条、鸡蛋、牛奶
C. 面包、炸薯条、鸡蛋、可乐 D. 馒头、鸡蛋、牛奶、果蔬

10. 体育锻炼后,第二天晨起时,如果脉搏超过前一天晨起时的脉搏,说明运动负荷
- A. 较大 B. 适中 C. 较小 D. 太小
11. 判断运动心率是否达到有效负荷,一般采用运动停止后即刻测量
- A. 10 秒的脉搏数,乘以 6 进行换算 B. 30 秒的脉搏数,乘以 2 进行换算
- C. 10 秒呼吸次数 D. 30 秒呼吸次数
12. 竞赛场上遇到挫折时,容易产生焦虑、烦躁等不良情绪,有效控制的方法是
- A. 消极气馁 B. 聚集群殴
- C. 讽刺对方 D. 自我激励
13. 为预防肠道传染病传播,避免“病从口入”,下列正确的做法是
- A. 饥饿时未洗手取用食物 B. 口渴时饮用生水
- C. 食用未加热熟透的剩饭菜 D. 食用新鲜洁净果蔬
14. 不同运动项目对发展体能的效果各不相同,下列发展上肢肌肉力量效果最好的是
- A. 健美操 B. 游泳 C. 单杠 D. 中长跑
15. 在体育锻炼时,为了实时控制运动强度,使心率保持在安全有效范围内,这个范围称为
- A. 靶心率 B. 基础心率
- C. 安静心率 D. 最大心率
16. 作为未成年人,发现有人溺水,下列正确的做法有
- ①仔细观察环境,求助于成年人 ②大声呼救
- ③利用周围工具营救 ④即刻下水营救
- ⑤拨打 120 电话
- A. ①②③④ B. ①②③⑤ C. ②③④⑤ D. ①③④⑤

体育与健康基本知识试题答案

选择题(共 16 小题,每小题 0.25 分,共 4 分)

1	2	3	4	5	6	7	8
B	D	C	C	B	A	B	C
9	10	11	12	13	14	15	16
D	A	A	D	D	C	A	B